

---

**MA11 – Números e Funções Reais****Avaliação 3 - GABARITO****06 de julho de 2013**

---

1. (1,5 pontos) Determine se as afirmações a seguir são verdadeiras ou falsas, justificando adequadamente e em detalhes as suas respostas.

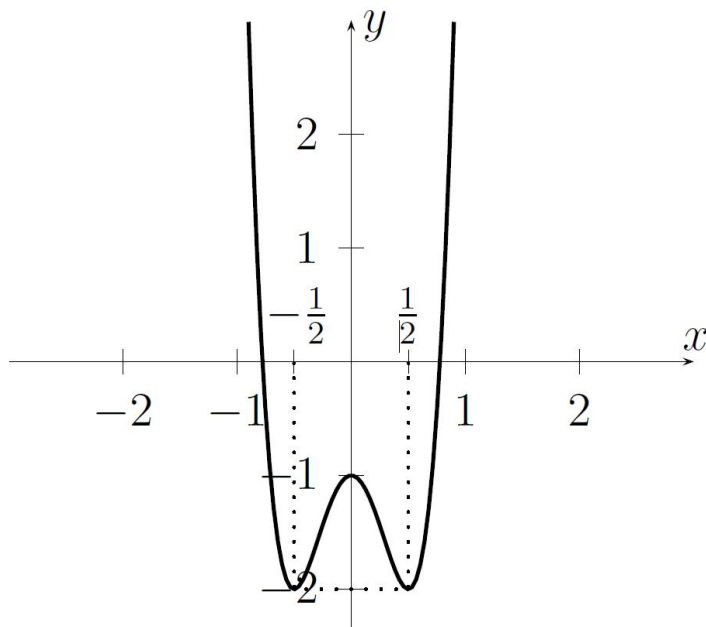
- (a) (0,5 ponto) Se  $f : \mathbb{R} \rightarrow \mathbb{R}$  e  $g : \mathbb{R} \rightarrow \mathbb{R}$  são funções monótonas crescentes, então a função soma  $f + g : \mathbb{R} \rightarrow \mathbb{R}$ , definida por  $(f + g)(x) = f(x) + g(x)$  é monótona crescente.
- (b) (0,5 ponto) Se  $f : \mathbb{R} \rightarrow \mathbb{R}$  é uma função limitada superiormente, então  $f$  admite um ponto de máximo absoluto.
- (c) (0,5 ponto) Se  $f : \mathbb{R} \rightarrow \mathbb{R}$  admite um ponto de máximo local, então  $f$  admite um ponto de máximo absoluto.

2. (2,0 pontos) Da mesma forma que se expressa um número real no sistema de numeração decimal, é possível expressá-lo em um sistema de numeração posicional qualquer, de base  $\beta \in \mathbb{N}$ ,  $\beta \geq 2$ . Dizemos que um número  $a \in \mathbb{R}$  está expresso no sistema de base  $\beta$  se ele é escrito na forma:

$$a = a_0 + \sum_{k=1}^{+\infty} a_k \beta^{-k}$$

em que  $a_0 \in \mathbb{Z}$  e os  $a_k$  são dígitos entre 0 e  $\beta - 1$  (incluindo-os).

- (a) (1,0 ponto) Mostre que, se um número  $x \in \mathbb{R}$  é irracional, então  $x$  possui representação infinita em toda base  $\beta$ .
- (b) (1,0 ponto) Reciprocamente, mostre que, se um número  $x \in \mathbb{R}$  possui representação infinita em toda base  $\beta$ , então  $x$  é irracional.
3. (2,0 pontos) Considere a função  $p_1 : \mathbb{R} \rightarrow \mathbb{R}$ ,  $p_1(x) = (x^2 - 1)^2$ . A figura abaixo mostra o gráfico de uma função  $p_2 : \mathbb{R} \rightarrow \mathbb{R}$  na forma  $p_2(x) = c p_1(ax - b) + d$ , sendo  $a$ ,  $b$ ,  $c$  e  $d$  constantes reais. Determine  $a$ ,  $b$ ,  $c$  e  $d$ . Justifique sua resposta.



4. (2,0 pontos) Considere as funções  $u, v : \mathbb{R} \rightarrow \mathbb{R}$ , definidas por  $u(x) = 2^{\sin(x)}$  e  $v(x) = \sin(2^x)$ .

- (a) (1,0 ponto) Determine o maior e menor valores atingidos por  $u$  e  $v$ .
- (b) (1,0 ponto) Esboce os gráficos de  $u$  e de  $v$ .

5. (2,5 pontos) Considere a função  $g : \mathbb{R}^* \rightarrow \mathbb{R}$ ,  $g(x) = 2^{1-\frac{1}{x}}$ .

- (a) (1,0 ponto) Faça um esboço o gráfico de  $g$ .
- (b) (0,75 ponto) Determine todas as soluções reais das equações  $g(x) = 2$  e  $g(x) = 4$ .
- (c) (0,75 ponto) Resolva a inequação  $g(x) < 4$ , para  $x \in \mathbb{R}$ .



---

**MA11 – Números e Funções Reais****Avaliação 1 – Gabarito**

---

**1. (a) Verdadeiro.**

Sejam  $x_1, x_2 \in \mathbb{R}$ , com  $x_1 < x_2$ . Como  $f$  e  $g$  são monótonas crescentes, então  $f(x_1) < f(x_2)$  e  $g(x_1) < g(x_2)$ . Logo,  $f(x_1) + g(x_1) < f(x_2) + g(x_2)$ . Portanto,  $f + g$  é monótona crescente.

**(b) Falso.**

Contra-exemplo: A função  $f : \mathbb{R} \rightarrow \mathbb{R}$ ,  $f(x) = -2^x$  é limitada superiormente, mas não admite um ponto de máximo absoluto.

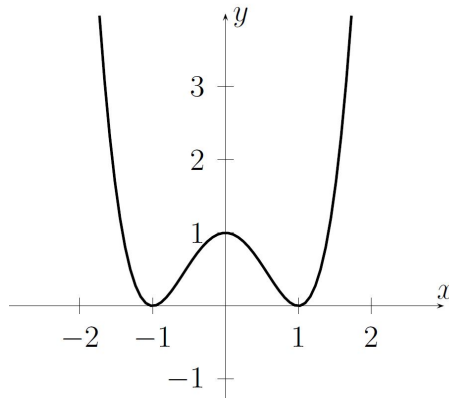
**(c) Falso.**

Contra-exemplo: A função  $f : \mathbb{R} \rightarrow \mathbb{R}$ ,  $f(x) = (x^2 - 1)^2$  admite um ponto de máximo local em  $(0, 1)$ , mas não um ponto de máximo absoluto.

**2. (a) Suponhamos que  $x$  tenha representação finita em alguma base  $\beta$ . Então, pela definição (dada no enunciado da questão),  $x$  é soma finita de números racionais, portanto é racional.**

**(b) Suponhamos que  $x$  seja racional; pelo algoritmo da divisão, podemos supor, sem perda de generalidade, que  $0 \leq x < 1$ . Então  $x$  se escreve na forma  $x = \frac{a}{b}$ , com  $a, b \in \mathbb{N}$ ,  $0 \leq a < b$ . Consideremos o sistema de numeração posicional  $\beta = b$ . Como  $x = a b^{-1}$ , então, por definição, esta é a representação de  $x$  na base  $b$  (isto é,  $x_b = 0, a$ ). Assim, existe uma base em que  $x$  possui representação finita.**

**3. O gráfico da função  $p_1$  tem o aspecto mostrado na figura abaixo. O gráfico de  $p_2$  é dado pela aplicação de translações e de dilatações no gráfico de  $p_1$ .**



Observemos primeiro os efeitos da translação e da dilatação horizontais, determinadas pelas constantes  $a$  e  $b$ . Os pontos  $(-1, 0)$  e  $(1, 0)$  são transformados nos pontos  $(-\frac{1}{2}, 0)$  e  $(\frac{1}{2}, 0)$ , respectivamente. Assim, a distância entre as abscissas desses pontos é multiplicada pelo fator  $\frac{1}{2}$ . Podemos concluir que  $a = 2$ . Como o eixo de simetria vertical não se altera, não há deslocamento horizontal, isto é,  $b = 0$ .

Passemos agora a analisar a translação e a dilatação verticais, determinadas pelas constantes  $c$  e  $d$ . Observamos que não há dilatação vertical do gráfico, pois as distâncias entre as ordenadas de pontos do gráfico de  $p_1$  e as distâncias entre as ordenadas dos correspondentes pontos do gráfico de  $p_2$  permanecem as mesmas. Isto pode ser facilmente visto olhando-se os pontos de máximo e de mínimo locais das funções. Segue que  $c = 1$ . Finalmente, como a ordenada de  $(0, 1)$  é subtraída de duas unidades, concluímos que  $d = -2$  (translação vertical).

Desta forma, temos que:

$$a = 2 \quad b = 0 \quad c = 1 \quad d = -2$$

Portanto:  $p_2(x) = p_1(2x) - 2 = ((2x)^2 - 1)^2 - 2 = (4x^2 - 1)^2 - 2$ .

4. (a) Como  $u$  é dada por uma função exponencial  $x \mapsto 2^x$  aplicada sobre a função seno e esta função exponencial é estritamente crescente, segue que o valor de  $u$  será máximo quando o valor de  $\text{sen } x$  for máximo e será mínimo quando o valor de  $\text{sen } x$  for mínimo.

$$x = \frac{\pi}{2} + 2k\pi, k \in \mathbb{Z} \Leftrightarrow \text{sen}(x) = 1 \Leftrightarrow u(x) = 2$$

$$x = \frac{3\pi}{2} + 2k\pi, k \in \mathbb{Z} \Leftrightarrow \text{sen}(x) = -1 \Leftrightarrow u(x) = \frac{1}{2}$$

Portanto, o maior e o menor valores atingidos por  $u$  são 2 e  $\frac{1}{2}$ .



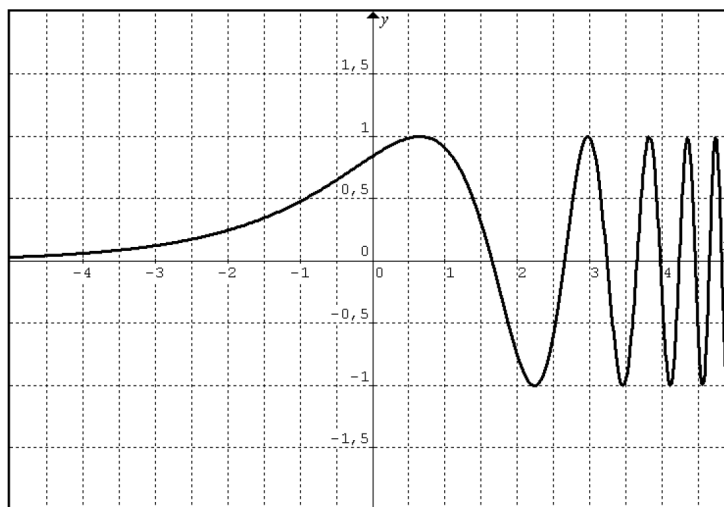
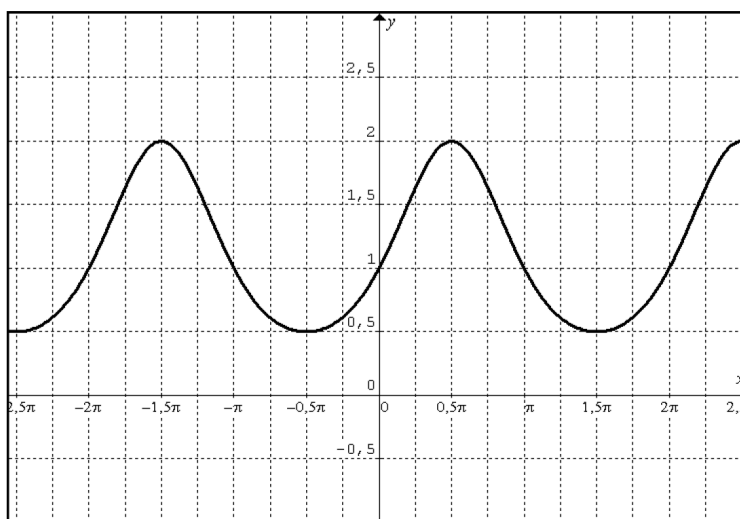
Como  $v$  é dada pela função seno aplicada sobre outra função real, temos necessariamente que  $-1 \leq v(x) \leq 1 \forall x \in \mathbb{R}$ . Mais precisamente, temos que:

$$v(x) = 1 \Leftrightarrow 2^x = \frac{\pi}{2} + 2k\pi, k \in \mathbb{N} \Leftrightarrow x = \log_2\left(\frac{\pi}{2} + 2k\pi\right), k \in \mathbb{N}$$

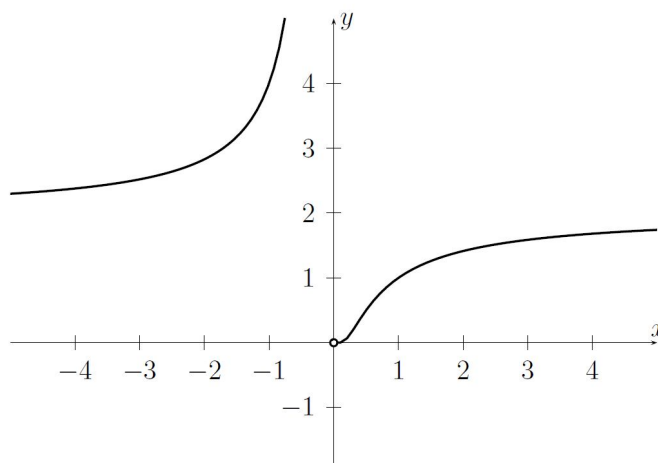
$$v(x) = -1 \Leftrightarrow 2^x = \frac{3\pi}{2} + 2k\pi, k \in \mathbb{N} \Leftrightarrow x = \log_2\left(\frac{3\pi}{2} + 2k\pi\right), k \in \mathbb{N}$$

Portanto, o maior e o menor valores atingidos por  $v$  são 1 e  $-1$ .

- (b) Com base no item anterior, concluímos que os gráficos de  $u$  e de  $v$  têm os seguintes aspectos:



5. (a) Quando  $x$  cresce muito em valor absoluto (isto é, quando  $x$  tende a  $\pm\infty$ ), o expoente  $1 - \frac{1}{x}$  se aproxima de 1, portanto  $g(x)$  se aproxima de 2. Quando  $x$  se aproxima de 0 com valores positivos, o expoente  $1 - \frac{1}{x}$  tende de  $-\infty$ , logo  $g(x)$  se aproxima de 0. Quando  $x$  se aproxima de 0 com valores negativos, o expoente  $1 - \frac{1}{x}$  tende de  $+\infty$ , logo  $g(x)$  também tende de  $+\infty$ . Logo, o gráfico de  $g$  tem o seguinte aspecto:



- (b) Para que tivéssemos  $g(x) = 2$ , deveríamos ter  $1 - \frac{1}{x} = 1$ . Portanto, a equação  $g(x) = 2$  não possui soluções reais.

Resolvendo a equação  $g(x) = 4$ , temos

$$g(x) = 4 \Leftrightarrow 1 - \frac{1}{x} = 2 \Leftrightarrow \frac{1}{x} = -1 \Leftrightarrow x = -1$$

Portanto, a única solução real da equação  $g(x) = 2$  é  $x = -1$ .

- (c) Em primeiro lugar, observamos que, como a função exponencial é estritamente crescente, então:

$$g(x) < 4 \Leftrightarrow 1 - \frac{1}{x} < 2$$

Então:

$$g(x) < 4 \Leftrightarrow \frac{1}{x} > -1$$

Para continuar a resolução da inequação, devemos considerar separadamente os casos em  $x > 0$  e  $x < 0$ :

- Se  $x > 0$ , então  $\frac{1}{x} > -1 \Leftrightarrow x > -1$ .



- Se  $x < 0$ , então  $\frac{1}{x} > -1 \Leftrightarrow x < -1$ .

Portanto a solução da inequação é dada pelo conjunto  $] -\infty, -1[ \cup ] 0, +\infty[$ .

Observe que esta solução pode ser visualizada no gráfico de  $g$ , pelos pontos do domínio cujas imagens ficam abaixo da reta  $y = 4$ .

